

Les devoirs de Smol

Une fiche par jour : LUNDI

1. Complète pour avoir le bon nombre
2. Complète la série de chiffres
3. Ecris la bonne réponse

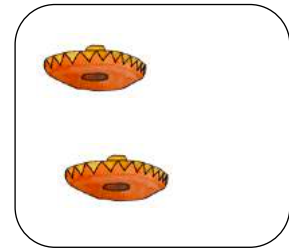


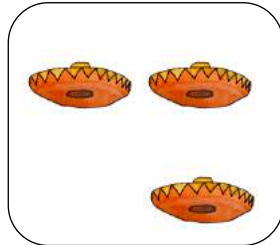


3

10pages.ch

1.

3



2.

0 1 4 5 6 7 8 9

3.

$2 + 1 =$

$3 + 0 =$

$1 + 2 =$

$0 + 3 =$

Les devoirs de Smol

Une fiche par jour : MARDI

1. Colorie la partie où il y en a le moins
2. Complète la série de chiffres
3. Dessine le bon nombre d'objets


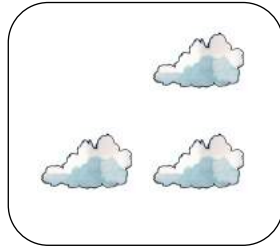



4

10pages.ch

1.

4



2.

1 2

4

6

7

8

9

3.

$2 + 2 =$

$3 + 1 =$

$0 + 4 =$

$1 + 3 =$

Les devoirs de Smol

Une fiche par jour : LUNDI

1. Complète pour avoir le bon nombre
2. Complète la série de chiffres
3. Ecris la bonne réponse



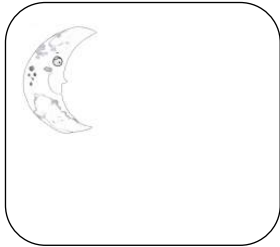
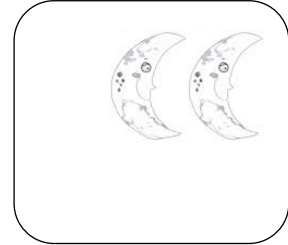
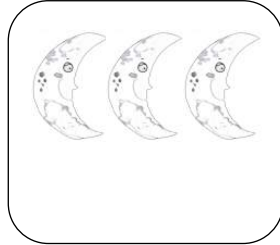
5



10pages.ch

1.

5



2.

0

2

3

5

6

7

9

3.

$3 + 1 =$

$4 + 0 =$

$3 + 2 =$

$4 + 1 =$

Les devoirs de Smol

Une fiche par jour : LUNDI

1. Complète pour avoir le bon nombre
2. Complète la série de chiffres
3. Ecris la bonne réponse


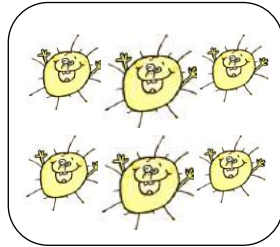
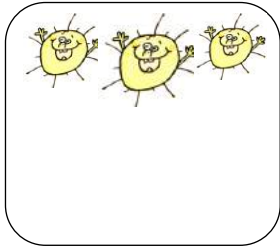


6



10pages.ch

1.

6



2.

0

2

5

6

8

9

3.

$3 + 3 =$

$6 + 0 =$

$3 + 0 =$

$4 + 2 =$

Les devoirs de Smol

Une fiche par jour : LUNDI






1. Complète pour avoir le bon nombre
2. Complète la série de chiffres
3. Ecris la bonne réponse



10pages.ch

1.

7



2.

0

9

3.

$2 + 3 =$

$6 + 1 =$

$3 + 4 =$

$5 + 2 =$